

کلاس:

به نام خدا  
ریاضی هشتم فصل نهم

نام:

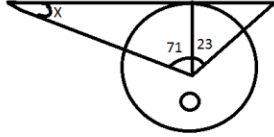
تاریخ:

نام معلم:

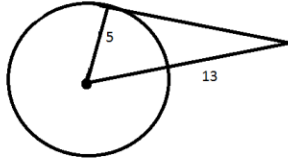
نام خانوادگی:

1- وضعیت یک خط و دایره را نسبت به هم رسم کنید.

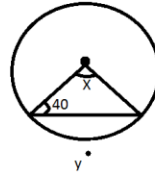
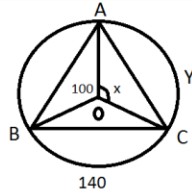
2- اندازه ی زاویه های خواسته شده را بیابید.



3- طول پاره خط a را بیابید.

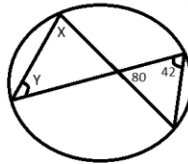
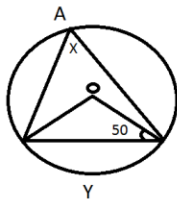


4- اندازه ی کمان و زاویه های خواسته شده را بیابید.



5- اگر یک دایره را به 5 کمان مساوی تقسیم کنیم هر کدام \_\_\_\_\_ درجه خواهند بود.

6- اندازه ی زاویه های خواسته شده را بیابید.



7- کاغذی مربعی شکل به قطر 24 سانتی متر داریم. مطابق شکل بزرگ ترین دایره ای را که می توانستیم روی آن رسم کردیم. قطر این دایره را حساب کنید.